

G 3 – L'Asie du Sud et de l'Est : les enjeux de la croissance.

Croquis sur Mumbai.

Légende.

I. Une ville soumise à une forte croissance spatiale...

A. Les héritages du passé colonial



Rouge

Ville centre, urbanisée depuis le début du XX^e siècle : ancienne ville coloniale en cours de gentrification, très fortes densités de peuplement.



Losange
noir rempli
en bleu

Ancien quartiers d'affaires.



Ancien port.

Triangle noir
rempli en bleu

I. Une ville soumise à une forte croissance spatiale...

B. L'expansion spatiale



Orange

Espace urbanisé depuis une cinquantaine d'années : densités de plus en plus fortes en direction de la ville centre.



jaune

Ville nouvelle planifiée, Navi Mumbai.



Vert





Zone protégée (parc national) et non construite, fragilisée par l'extension urbaine.



Gris

Autres espaces non construits (marais, mangroves).

II. ... et renforçant les inégalités caractéristiques d'un pays émergent.

- Cercle noir rempli en marron  Principal *slum* ou bidonville.
- Carré noir rempli en rouge  Habitat résidentiel de luxe.
- Flèche marron  Axe de l'urbanisation, conduisant au déplacement progressif des *slums* ou bidonvilles vers l'extérieur de la ville.
- Flèche rouge  Axe de gentrification.

III. ... et soumise à une forte métropolisation.

A. Une métropole tertiarisée...

Cercle noir
rempli rouge



Nouveau centre directionnel périphérique.

Losange noir
rempli en rouge



Quartier d'affaires nouveau.

III. La principale métropole économique de l'Inde.

B. ... et de plus en plus liée avec le reste de l'Inde et du monde.

Trait plein noir

 Principaux axes de transport.

Rectangle noir rempli en blanc

 Aéroport international actuel, 1^{er} aéroport de l'Inde.

Triangle noir rempli en rouge

 Nouveau port, *JNPT*, 1^{er} port de l'Inde.

Double-flèche bleue

 Pont maritime *Bandra Warli Sea Link*.

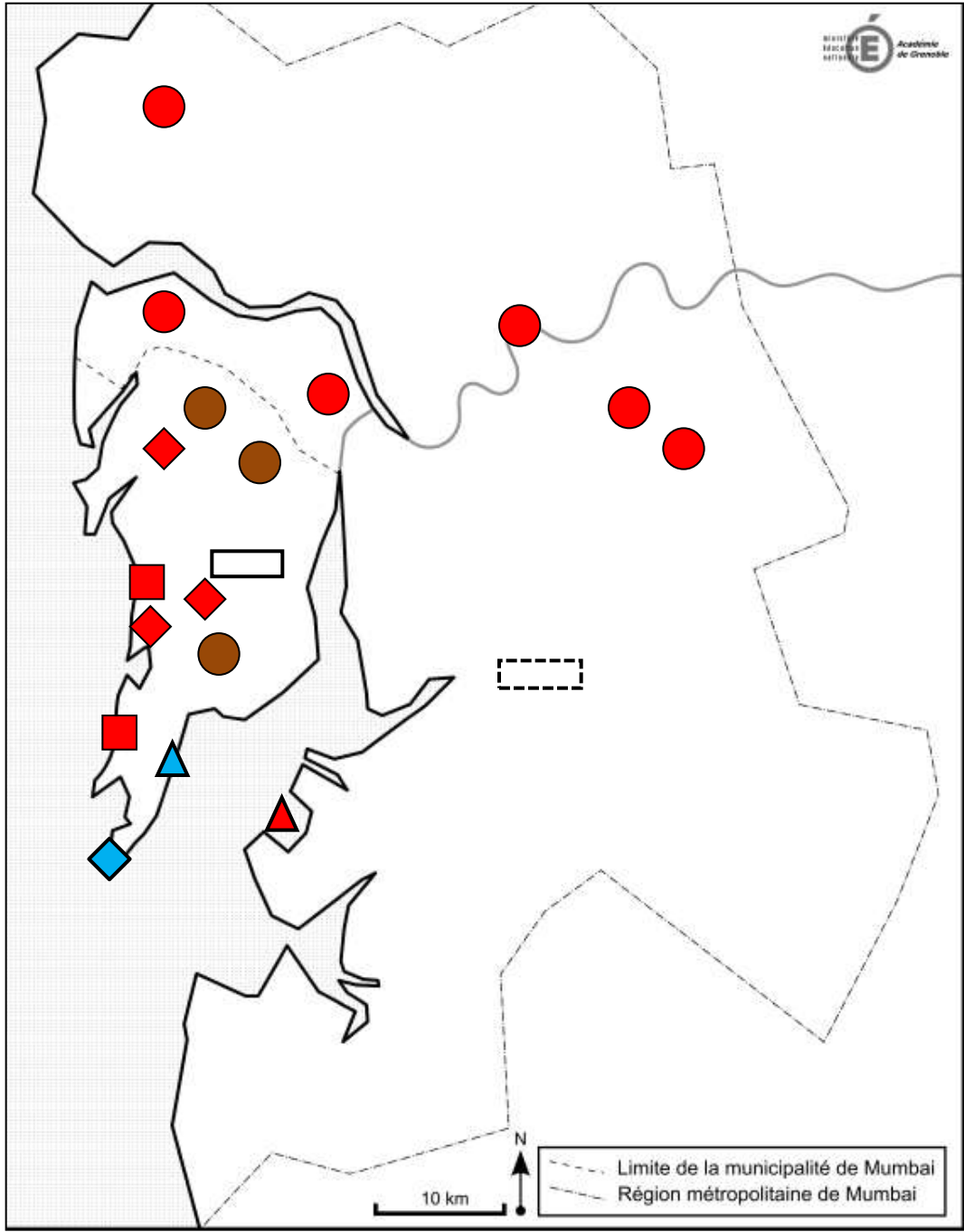
Rectangle noir en pointillé, rempli en blanc

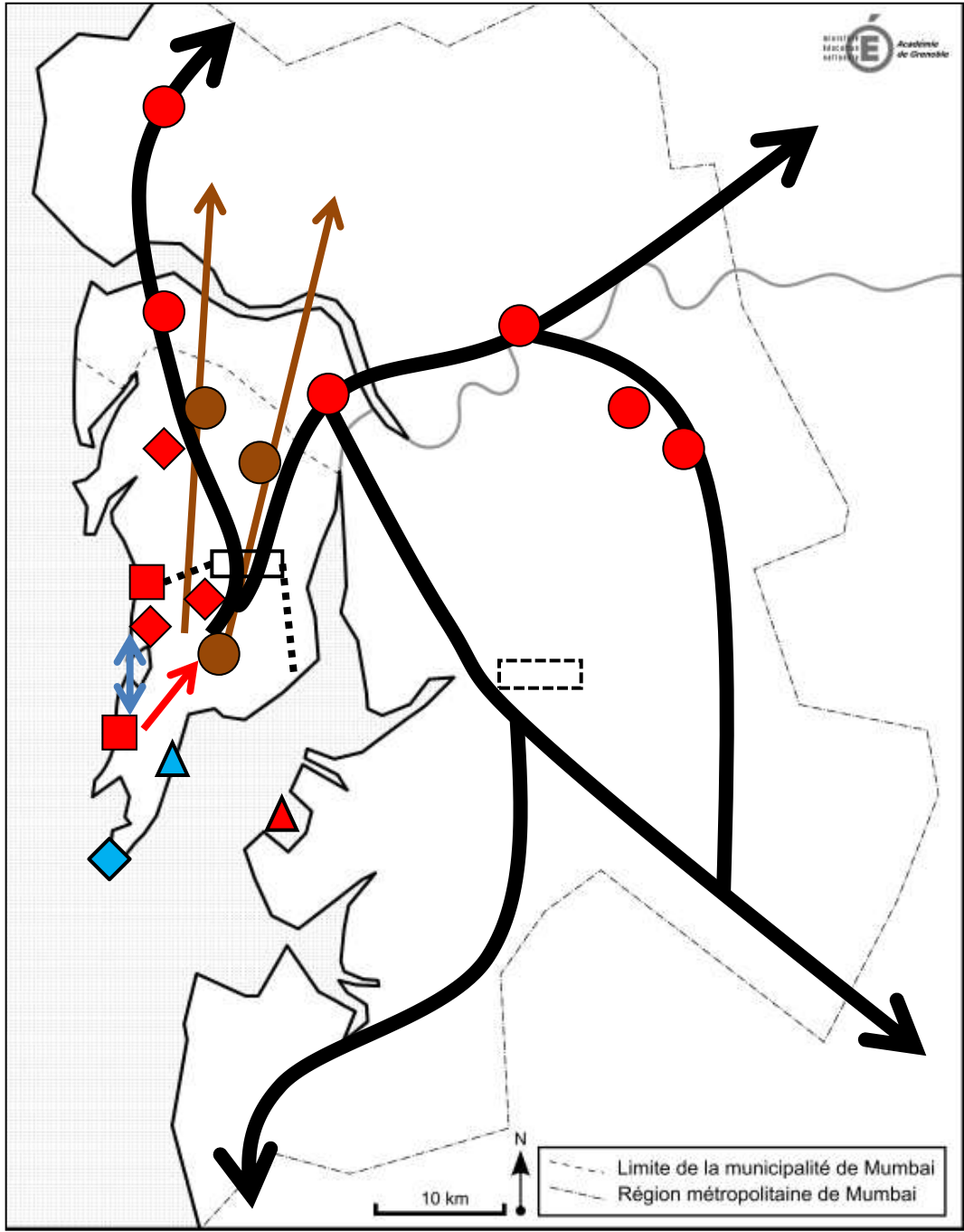
 Nouvel aéroport international en projet.

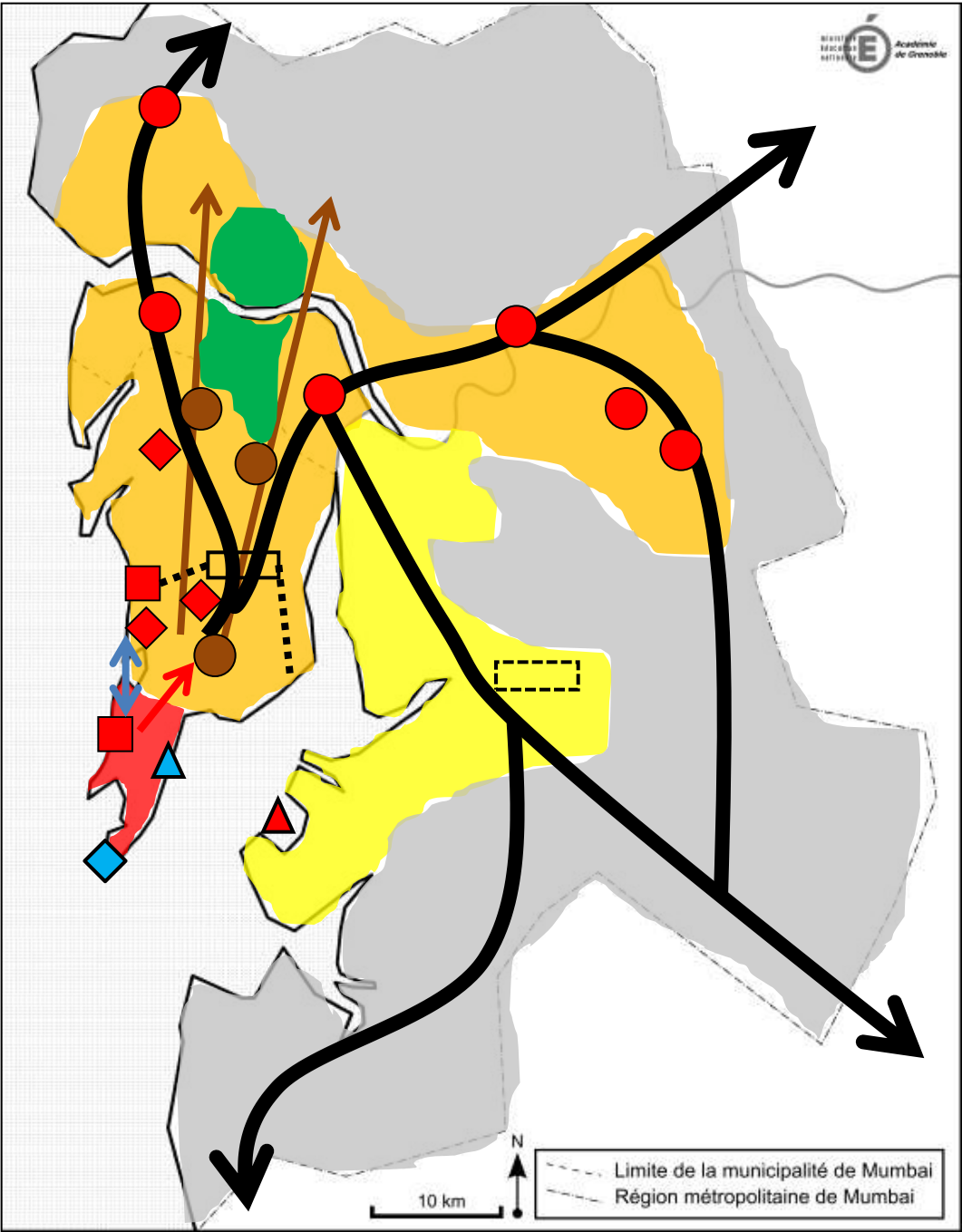
Trait en pointillé noir

 Ligne de métro n°1, en projet

Croquis.



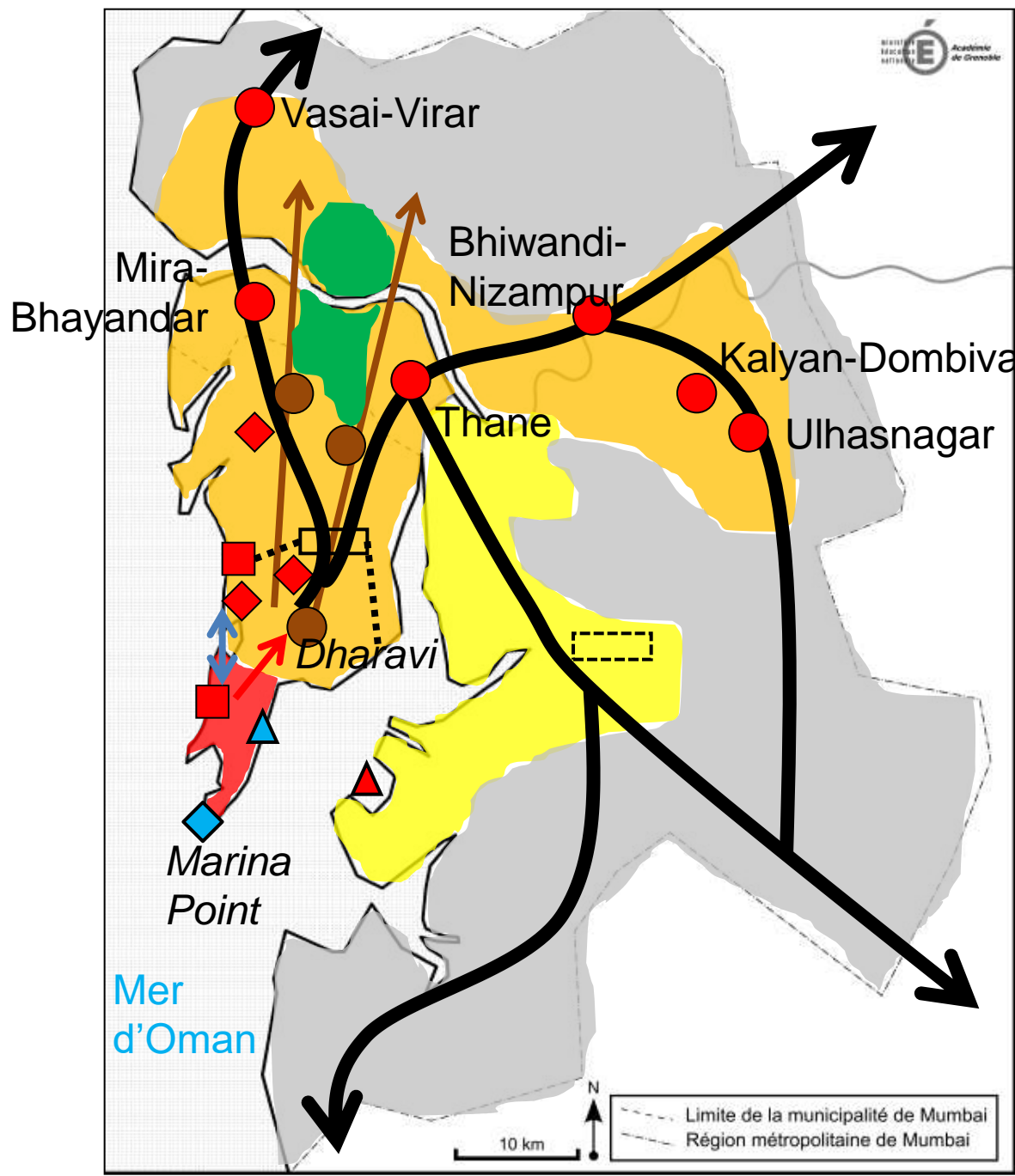




--- Limite de la municipalité de Mumbai
— Région métropolitaine de Mumbai

10 km

N



Comment s'organise la ville de Mumbai, une grande métropole d'un pays émergent ?

